

2 下 階段評估 (二)

(包含 2 下 A 單元 4 至 5 的學習內容)

姓名：_____

班別：_____ ()

日期：_____

成績：_____/25

建議時間：30 分鐘

① $428 - 113 + 284 = \underline{599}$ (1 分)

② $257 + 560 - 793 = \underline{24}$ (1 分)

③ $612 + 343 - 297 = \underline{658}$ (1 分)

④ $840 - 466 + 158 = \underline{532}$ (1 分)

⑤ $375 - 83 + 139 =$ (1 分)

○ A. 451

● B. 431

○ C. 321

○ D. 153

⑥ 小食店原有 510 粒魚蛋，賣出 208 粒，再購入 340 粒。小食店現有魚蛋 642 粒。 (1 分)

$510 - 208 + 340$

⑦



一架模型船的售價是 168 元。玩具熊減價 20 元後，買一個玩具熊和一架模型船，共需付 287 元。 (1 分)

$139 - 20 + 168$

- ⑧ 文謙有 136 張郵票，家朗有 97 張郵票，子皓有 144 張郵票，三人共有郵票 377 張。

$$136 + 97 + 144$$

(1 分)


- ⑨ 藝術展現正開始，第一天有 472 人參觀，比第二天參觀的多 145 人，第二天參觀的比第三天的少 268 人，第三天參觀藝術展有多少人？(列式計算)

(3 分)

$$\begin{aligned} &472 - 145 + 268 \\ &= 327 + 268 \\ &= 595 \end{aligned}$$

第三天參觀藝術展有 595 人。

⑩



- 媽媽有 400 元。她想買以上兩款花瓶各一個，還欠多少元？(列式計算)

(3 分)

$$\begin{aligned} &265 + 186 - 400 \\ &= 451 - 400 \\ &= 51 \end{aligned}$$

還欠 51 元。

或其他合理算法

- ⑪ 便利店現有 222 盒芒果汁和 135 盒蘋果汁，賣出 23 盒芒果汁後，芒果汁比蘋果汁多幾盒？(列式計算) (3 分)

$$\begin{aligned}
 &222 - 23 - 135 \\
 &= 199 - 135 \\
 &= 64 \\
 &\text{芒果汁比蘋果汁多 } 64 \text{ 盒。}
 \end{aligned}$$

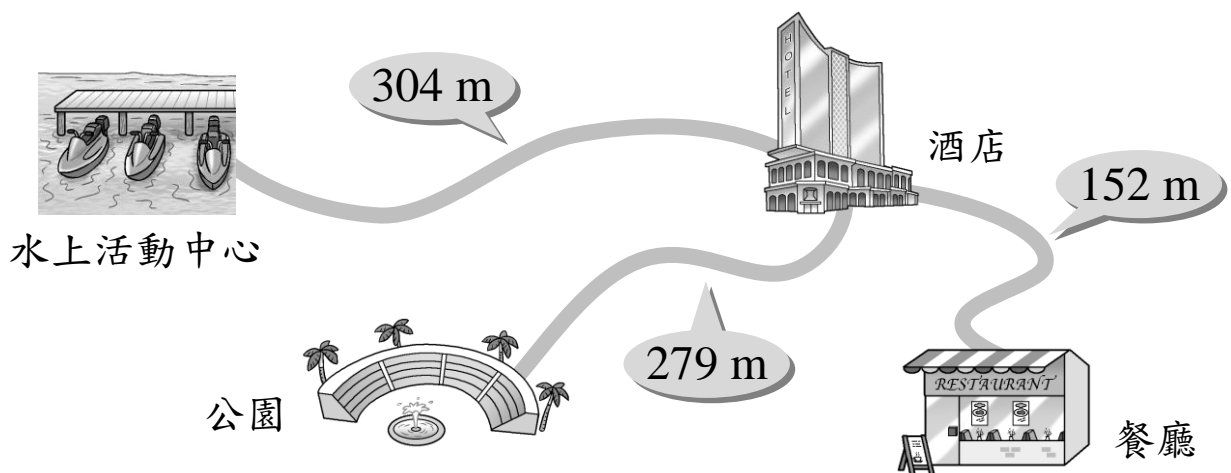
- ⑫ 在下列各項填上適當的長度單位。

(a) 一個電腦鍵盤的長度約是 44 厘米 / cm。 (1 分)

(b) 澳門旅遊塔約高 340 米 / m。 (1 分)

(c) 一個筆盒約厚 3 厘米 / cm。 (1 分)

- ⑬ 下圖是酒店附近建築物的地圖。



距離  最遠的是 *  /  /  。 (1 分)

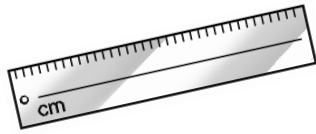
(* 圈出答案)

⑭ 7 米 18 厘米 = 718 厘米 (1 分)


⑮ 6 m 9 cm = 609 cm (1 分)

⑯ 以下哪一件工具最適合用來量度洗衣機的高度？ (1 分)

A. 直尺



B. 捲尺



C. 臂長

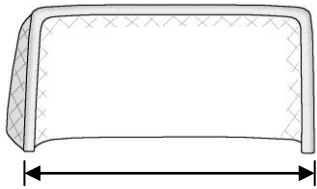


D. 滾輪

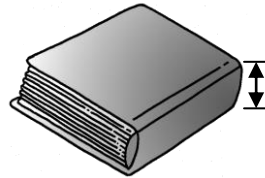


⑰ 以下哪一項最適合用  來量度？ (1 分)

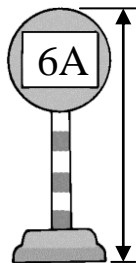
A. 龍門的長度



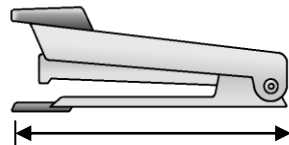
B. 書本的厚度



C. 巴士站牌的高度



D. 釘書機的長度



— 全卷完 —